

ШИФР 9-26.

Олимпиадная работа
муниципального этапа всероссийской олимпиады школьников
по основам безопасности и защиты Родины
учащегося 9 класса
муниципального автономного общеобразовательного учреждения
«Средняя общеобразовательная школа №24 с УИОП имени С.П. Тимофеева»
Старооскольского городского округа Белгородской области

Бесчетникова Романа Дмитриевича

Педагог-наставник:
педагог-организатор ОБЗР
МАОУ «Средняя общеобразовательная школа №24 с УИОП
им. С.П. Тимофеева»
Угнивенко Константин Евгеньевич

«___» _____ 2025 г

ТЕОРЕТИЧЕСКИЙ ТУР**9 класс**

Впишите свой код/шифр		

Уважаемый участник Олимпиады!

При выполнении заданий теоретического тура Вам предстоит выполнить определенную работу, которую лучше организовать следующим образом:

– не спеша, внимательно прочитайте задание и входящие в него вопросы или ситуации;

– определите, наиболее верный и полный ответ;

– если вы отвечаете на теоретический вопрос, обдумайте и сформулируйте конкретный ответ только на поставленный вопрос;

– если вы отвечаете на предложенную ситуацию, обдумайте порядок и последовательность действий по предложенной ситуации и впишите ответы в схему в той последовательности, которую вы определили, при этом ответ должен быть кратким, но содержать необходимую информацию;

– если вы отвечаете на задание, связанное с заполнением таблицы, не старайтесь детализировать информацию, вписывайте только те сведения или данные, которые указаны в вопросе или верхних графах;

– после выполнения всех предложенных заданий еще раз удостоверьтесь в правильности выбранных вами ответов и решений;

Задание теоретического тура по данной предметной секции считается выполненным, если Вы вовремя сдаете его членам жюри. Время выполнения задания составляет 180 минут.

Желаем вам успеха!

Оценка за Теоретический блок 24 баллов (максимальная 80 баллов)

Оценка за Блок тестирования 8 баллов (максимальная 20 баллов)

Оценка результата участника за ТЕОРЕТИЧЕСКИЙ ТУР 32 баллов
(максимально за теоретический тур 100 баллов)

гипотеза), которая указывает на характер и масштабы воздействия землетрясения на поверхность земли, людей, животных, а также

на естественные и искусственные сооружения в районе землетрясения.
Выполните задание:

А. Заполните правый столбец таблицы указав характер и масштаб воздействия согласно интенсивности землетрясения, и баллам.

Вариант ответа:

№	Интенсивность землетрясения, I, баллы	Характер и масштаб воздействия
1	1 балл (незаметное)	не замечное, нет воздействия на окружающую среду —
2	2 балла (очень слабое)	не замечное —
3	3 балла (слабое)	следы толчки —
4	4 балла (умеренное)	умеренные толчки, ощущаются +
5	5 баллов (довольно сильное)	толчки, дома могут начать трескаться +
6	6 баллов (сильное)	сильные толчки, некоторые дома начинают разрушаться в негодности —
7	7 баллов (очень сильное)	очень сильные толчки, дома получают серьезные повреждения +
8	8 баллов (разрушительное)	дома находятся в аварийном состоянии —
9	9 баллов (опустошительное)	от толчки похож на землетрясение еще сильнее, сильное взаимодействие с окружающей средой —
10	10 баллов (уничтожающее)	опасно для жизни —
11	11 баллов (катастрофа)	опасно для жизни —
12	12 баллов (сильная катастрофа)	не безопасно опасно для жизни, на улице и в зданиях находится 3

Б. Вставьте в представленный ниже текст недостающие слова:

Текст

Будьте внимательны к сообщениям органов по делам _____ (1) субъектов и городов РФ, строго выполняйте их указания и рекомендации. Обычно от момента первых колебаний до разрушительных толчков проходит _____ (2) сек. Поэтому, если Вы ощутили _____ (3), находясь в здании на первом-втором этажах, лучше быстро покинуть здание (при этом пользоваться _____ (4) категорически запрещено) и отойти от него на открытое место.

Находясь выше _____ (5) этажа — уйдите из угловых комнат,

займитенаиболее безопасное место (на удалении от окон, в проемах внутреннихкапитальных стен, в углах между стенами, лучше под кроватью, столамиили другими устойчивыми прочными _____(6)).

За первым толчком, как правило, следуют _____(7). Используйтезатишье для выхода из дома. Берегитесь обрушения кусков штукатурки,стекол, кирпичей, арматуры и др.

На улице держитесь подальше от зданий, линий электропередач,столбов, трубопроводов, мостов и др.

Если землетрясение застало в _____(8) – остановитесь (лучше наоткрытом месте), откройте двери, но не покидайте салон автомобиля.

Вариант ответа:

1	землетрясения	—
2	искомых	—
3	толчки	+
4	критан	+
5	протесто	—
6	предметами	+
7	второй	—
8	распалох	—

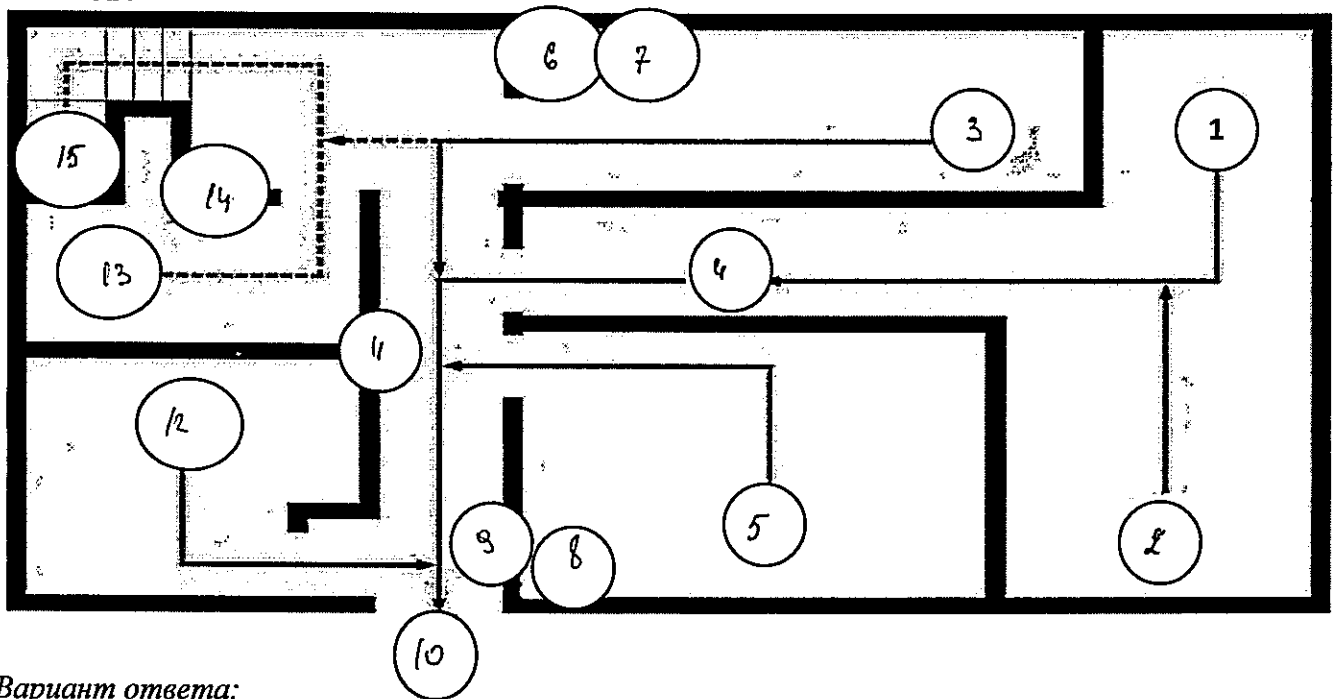
Оценочные баллы: максимально— 20 баллов;

фактически набранные баллы за задание -






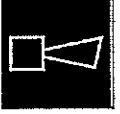

Подписи членов жюри

Всех

Задание 2. На схеме отсутствуют эвакуационные знаки и знаки пожарной безопасности. Заполните таблицу, вписав цифры, соответствующие знакам, размещенным в указанных данными цифрами местах. Допускается 15 ответов.



Вариант ответа:

						
13, 12, 3, 5	15	15, 10	4, 4	8	6, 6	7

Оценочные баллы: максимально— 15 баллов;

фактически набранные баллы за задание - 0.

Подписи членов жюри Авеев А.

Задание 3. К наиболее опасным террористическим актам можно отнести:

Вариант ответа:

✓ Вооруженное нападение улья на ТЦ, школу, больницу, детский сад и т.д.

✓ Ликвидация ТЦ, школы

Подпись,

Оценочные баллы: максимально— 14 баллов;

фактически набранные баллы за задание - 4.

Подписи членов жюри Авеев А.

Задание 4. Выполните задание:

А. Заполните таблицу указав тип возможных заболеваний в туристском походе:

Вариант ответа:

Вид опасности	Тип заболевания
---------------	-----------------

Неблагоприятные метеорологические условия	Вид опасности
высокогорье	Вид опасности
Яркий солнечный свет	Вид опасности
Отличный от привычного режима дня, питания	Вид опасности
Длительное физическое напряжение, трудности при передвижении по пересечённой местности с тяжёлым рюкзаком	Вид опасности
Укусы насекомых	Тип заболеваний

Б. Определите перечень личного снаряжения при подготовке к туристскому походу, поставив знак «+» в соответствующие ячейки.:

Пеший туристский поход	Перечень личного снаряжения, которые обеспечивают безопасность туриста в походе:	Водный туристский поход
+	Аптечка.	+
+	Налобный фонарик	+
+	Спальный мешок	
+	Специальная обувь	
+	Туристический коврик и сидуха	
	Защитная каска	+
+	Солнцезащитные очки и треккинговые палки	
+	Посуда для приёма пищи и бутылка для воды	
	Спасательный жилет	+
	Мембранная куртка	+
+	Треккинговые ботинки	
	Гидрокостюм	+
	Гидромешок	+

Оценочные баллы: максимально — 19 баллов;
фактически набранные баллы за задание — 10.

Подписи членов жюри: Квиш Г

Задание 5. Укажите способы временной остановки наружных кровотечений, которые применяются при оказании первой помощи в условиях мирного времени (согласно Порядку оказания первой помощи) — столбец А и в

условиях ведения военных (боевых) действий (без дополнительных мероприятий первой помощи, которые могут выполнять лица, прошедшие подготовку по программам Минобороны) – столбец Б.

Вариант ответа:

А	Способы временной остановки наружных кровотечений	Б	
+	Максимальное сгибание конечности в суставе		0
+	Наложение кровоостанавливающего жгута	+	1
	Применение местного гемостатического средства	+	1
+	Пальцевое прижатие артерии		0
+	Прямое давление на рану		0
+	Наложение давящей повязки на рану	+	1

Оценочные баллы: максимально – 9 баллов;

фактически набранные баллы за задание - 3.

Подписи членов жюри _____

Задание 6. Перечислите три основных причины чрезмерного увеличения веса человека:

Вариант ответа:

нерациональное питание, активный образ жизни, вредные привычки 1

Оценочные баллы: максимально – 3 балла;

фактически набранные баллы за задание - 1.

Подписи членов жюри _____

Баллы за задания Теоретического блока						
№ задания	1	2	3	4	5	6
Кол-во баллов	6	0	4	10	3	4

Подпись председателя жюри _____

Подписи членов жюри Венел ф

ЗАДАНИЯ ТЕОРЕТИЧЕСКОГО ТУРА (Блок тестирования)

№ п/п	Тестовые задания	Макс. балл	Кол-во набранных баллов
1	2	3	4
Определите все правильные ответы			
1.	<p>После проведения оценки обстановки и обеспечения безопасных условий для оказания первой помощи выполняется следующее мероприятие первой помощи:</p> <p><input checked="" type="checkbox"/> а) определение наличия признаков жизни у пострадавшего;</p> <p><input checked="" type="checkbox"/> б) проведение подробного осмотра и опроса пострадавшего для выявления состояний, угрожающих его жизни и здоровью;</p> <p><input checked="" type="checkbox"/> в) проведение обзорного осмотра пострадавшего для выявления продолжающегося наружного кровотечения, его временная остановка (при наличии);</p> <p>г) оказание помощи пострадавшему в принятии лекарственных препаратов</p>	2	0
2.	<p>Верны ли следующие суждения? Восстановление проходимости дыхательных путей при оказании первой помощи рекомендуется выполнять:</p> <p>А. посредством запрокидывания головы с подъемом подбородка</p> <p>Б. посредством выдвижения нижней челюсти</p> <p><input checked="" type="checkbox"/> а) верно только А;</p> <p>б) верно только Б;</p> <p>в) верны оба суждения;</p> <p>г) оба суждения неверны</p>	2	2
3.	<p>Наиболее высоким коэффициентом ослабления радиации в жилом пятиэтажном каменном здании обладает:</p> <p>а) 1-й этаж;</p> <p>б) 2-й этаж;</p> <p>в) 3-й этаж;</p> <p><input checked="" type="checkbox"/> г) 4-й этаж</p>	2	2
4	<p>К отравляющим веществам раздражающего действия, временно выводящим из строя, относятся:</p> <p>а) Си-эс;</p> <p><input checked="" type="checkbox"/> б) Люизит;</p>	2	0

	в) Би-зет; г) Ви-икс		
5	По основному назначению топографические карты масштаба 1:25 000 относятся: а) к тактическим; б) к оперативно-тактическим; в) к оперативным; г) к общей оценке местности	2	0
6	В каких случаях карта не поможет в ориентировании на местности? а) в сильном тумане; б) в городе; в) на берегу реки;	2	1
7	Глубина указывается на топографических знаках, обозначающих: а) такыры; б) солончаки непроходимые; в) солончаки проходимые; г) болота непроходимые;	2	0
8	Наиболее эффективным при тушении пожара класса «С» являются: а) воздушно-эмульсионные огнетушители; б) водные огнетушители; в) воздушно-пенные огнетушители; г) порошковые огнетушители	2	0
9	К ручному немеханизированному пожарному инструменту относится: а) пневмомолоток; б) багор; в) цепная пила по дереву;	2	2
10	Мошенничество с использованием электронных средств платежа является преступлением: а) в сфере компьютерной информации; б) против порядка управления; в) против собственности; г) в сфере экономической деятельности	2	0
Количество баллов		max 20	8

Оценочные баллы: максимально – 20 баллов;

фактически набранные баллы за Блок тестирования - 8.

Подпись председателя жюри

Подписи членов жюри

Юрий Харн Вячеслав Александрович
Сергеев О.А.